



SALVAGUARDA

LISTA DE EXERCÍCIOS

GEOGRAFIA

JULHO

Olá, estudante! Este documento traz a lista de exercícios de Julho. O objetivo dela é te ajudar a fixar os conteúdos do cronograma do mesmo mês.



Lista de exercícios: fixação do cronograma de **JULHO**

Assuntos abordados neste mês:

Frente 1 – Cartografar, compreender os aspectos físico-naturais e suas relações com as dinâmicas socioespaciais no espaço geográfico	Frente 2 - A importância da Geografia para analisar o mundo contemporâneo
Hidrografia	UE - União Europeia
Bacias Hidrográficas, Redes e Divisor de Águas	BRICS – Brasil, Rússia, Índia, China e África do Sul
Rios e Bacias Hidrográficas Brasileiras e Mundiais	MERCOSUL – Bloco Econômico, Mercado Comum do Sul, Tratado de Assunção, Estados Membros
Vegetação do Mundo	NAFTA – Acordo de Livre Comércio da América Latina, EUA, Canadá e México, USMA e Gov. Trump
Vegetação do Brasil	
Questões Ambientais- Mudanças Climáticas	
O desmatamento no Brasil	
Os hotspots Brasileiros	
Ilhas de Calor, Chuva Ácida e Inversão térmica	
Conferências Mundiais para o Meio Ambiente	

Agora vamos praticar!

Frente 1:

- 1- “As águas superficiais constituem parte da riqueza dos recursos hídricos de um país. No caso brasileiro, país de extensão continental, a rede fluvial é importante recurso natural, contando em seu território com a maior bacia fluvial do mundo em extensão e em volume de água.”

Cunha, S. B. Bacias hidrográficas. Geomorfologia do Brasil. Cunha, S. B.; Guerra, A. J. T. Rio de Janeiro Bertrand Brasil. 2003. p.229.

Considerando as bacias hidrográficas brasileiras, seus processos e principais características, analise as seguintes afirmações:

- I. Alguns dos principais rios brasileiros originam-se a partir de três grandes centros dispersores de água: a Cordilheira dos Andes, o Planalto das Guianas e o Planalto Brasileiro.
- II. Com diferentes regimes e características, muitos rios brasileiros são barrados com a finalidade de gerar energia, abastecer populações e irrigar áreas diversas.
- III. O rio Paraná é um rio tipicamente de planalto que flui escalonadamente pelo Planalto Meridional, permitindo, dessa forma, a instalação de um dos sistemas elétricos mais importantes do país.

Está correto o que se afirmar em

- A) I e II apenas. B) II e III apenas. C) I, II e III. D) I e III apenas.

- 2- Os canais meândricos são encontrados, com frequência, nas áreas úmidas cobertas por vegetação ciliar, descrevem curvas sinuosas harmoniosas e semelhantes entre si. Várias são as condições essenciais para o desenvolvimento dos meandros: camadas de detritos de granulação móvel, coerentes, firmes e não soltas; gradientes moderadamente baixos; fluxos contínuos e regulares; cargas em suspensão e de fundo em quantidades mais ou menos equivalentes.

GUERRA, A. J. T.; CUNHA, S. B. (Org.). Geomorfologia: uma atualização de bases e conceitos. Rio de Janeiro: Bertrand Brasil, 1994.

A drenagem fluvial apresentada desenvolve-se em qual ambiente topográfico?

- A) Vales encaixados.
- B) Escarpas íngremes.
- C) Depressões absolutas.
- D) Planícies sedimentares.
- E) Cordilheiras montanhosas.

3-

Tipologia de área	% de chuva	
	retida no local	escoada
Bacias naturais/florestas	80 a 100	0 a 20
Bacias com ocupação agrícola/cultivos	40 a 60	40 a 60
Bacias com ocupação residencial	40 a 50	50 a 60
Bacias com ocupação urbana pesada	0 a 10	90 a 100

MACHADO, P. J. O.; TORRES, F. T. P. Introdução à hidrogeografia. São Paulo: Cengage Learning, 2012 (adaptado).

A leitura dos dados revela que as áreas com maior cobertura vegetal têm o potencial de intensificar o processo de

- A) erosão laminar.
- B) intemperismo físico.
- C) enchente nas cidades.
- D) compactação do solo.
- E) recarga dos aquíferos.

4-



Disponível em: <https://www.todamateria.com.br/biomas-brasileiros/>. Acesso em: 11 nov. 2022.

Os biomas são agrupamentos de vegetação onde constam características próximas ou similares. No Brasil, conforme o visualizado no mapa, há os seguintes biomas: Amazônia, Caatinga, Cerrado, Mata Atlântica, Pantanal, Campos ou Pampa.

Considerando a localização geográfica do estado de Mato Grosso do Sul, assinale a alternativa correta que apresenta os biomas que esse estado abrange.

- A) Amazônia, Cerrado e Pantanal.
 - B) Cerrado, Pantanal e Mata Atlântica.
 - C) Caatinga, Pantanal e Amazônia.
 - D) Pampa, Pantanal e Cerrado.
 - E) Caatinga, Mata Atlântica e Cerrado.
- 5- Em 1988, Norman Myers (professor e consultor de organizações como as Nações Unidas) identificou num estudo minucioso que existiam 10 “hotspots” de florestas tropicais caracterizados por níveis elevados de endemismo de plantas e por níveis graves de perda de habitat. Em 1990, oito hotspots, que incluíam quatro outros ecossistemas, foram acrescentados por Myers. Entende-se por hotspot toda área

natural cuja preservação é prioridade em razão de suas elevadas ameaças de extinção. É considerada como hotspot toda área com pelo menos 1500 espécies endêmicas e que já perdeu mais de 3/4 de sua vegetação original.

No Brasil, dois domínios naturais são classificados como tal, sendo um que sofre diretamente com a expansão do agronegócio, principalmente na região central do Brasil.

O bioma a que se refere o trecho acima é

- A) Amazônico
- B) Caatinga
- C) Cerrado
- D) Araucárias
- E) Mata de Cocais

6- Então, a travessia das veredas sertanejas é mais exaustiva que a de uma estepe nua. Nesta, ao menos, o viajante tem o desafogo de um horizonte largo e a perspectiva das planuras francas. Ao passo que a outra o afoga; abrevia-lhe o olhar; agride-o e estonteia-o; enlaça-o na trama espinescente e não o atrai; repulsa-o com as folhas urticantes, com o espinho, com os gravetos estalados em lanças, e desdobra-se-lhe na frente léguas e léguas, imutável no aspecto desolado; árvore sem folhas, de galhos estorcidos e secos, revoltos, entrecruzados, apontando rijamente no espaço ou estirando-se flexuosos pelo solo, lembrando um bracejar imenso, de tortura, da flora agonizante...

CUNHA, E. Os sertões. Disponível em: <http://pt.scribd.com>. Acesso em: 2 jun. 2012.

Os elementos da paisagem descritos no texto correspondem a aspectos biogeográficos presentes na

- A) composição de vegetação xerófila.
- B) formação de florestas latifoliadas.
- C) transição para mata de grande porte.
- D) adaptação à elevada salinidade.
- E) homogeneização da cobertura perenifólia.

7-



Disponível em: <http://www.ra-bugio.org.br>. Acesso em: 28 jul. 2010.

A imagem retrata a araucária, árvore que faz parte de um importante bioma brasileiro que, no entanto, já foi bastante degradado pela ocupação humana. Uma das formas de intervenção humana relacionada à degradação desse bioma foi

- A) o avanço do extrativismo de minerais metálicos voltados para a exportação na região Sudeste.
- B) a contínua ocupação agrícola intensiva de grãos na região Centro-Oeste do Brasil.
- C) o processo de desmatamento motivado pela expansão da atividade canieira no Nordeste brasileiro.
- D) o avanço da indústria de papel e celulose a partir da exploração da madeira, extraída principalmente no Sul do Brasil.
- E) o adensamento do processo de favelização sobre áreas da Serra do Mar na região Sudeste.

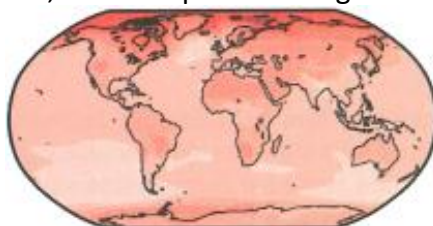
8- Nos últimos séculos, há um descompasso entre os problemas ambientais e a consciência ambiental sobre a gravidade desses problemas.

O fato histórico que marca a maior intensidade dos impactos no meio ambiente

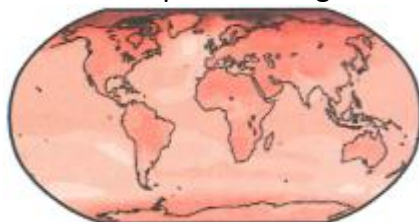
- A) são as Grandes Navegações, encerradas no século XV.
- B) é a Primeira Guerra Mundial, ocorrida em meados do século XIX.
- C) é a Metropolização, instituída no século XXI.
- D) é a Revolução Industrial, iniciada no século XVIII.
- E) são as Revoluções Técnico-Científico-Informacionais, fundadas no século XIX.

9- Simulação de mudança da temperatura média anual em relação ao período pré-industrial em três cenários de aquecimento global

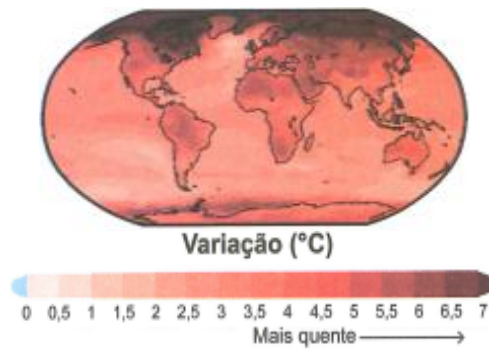
1,5 °C de aquecimento global



2 °C de aquecimento global

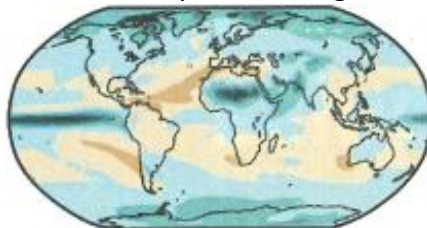


4 °C de aquecimento global

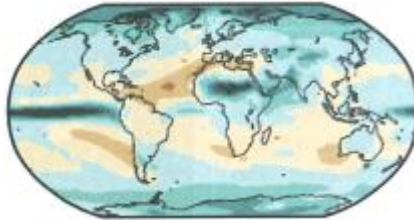


Simulação de mudança da pluviosidade média anual em relação ao período pré-industrial em três cenários de aquecimento global

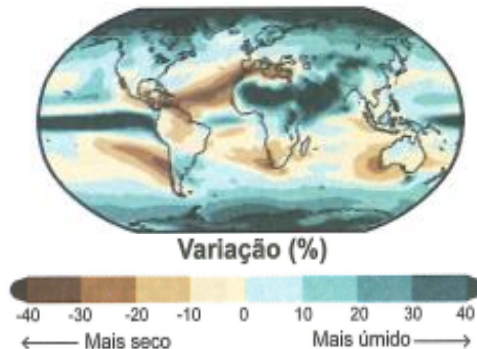
1,5 °C de aquecimento global



2 °C de aquecimento global



4 °C de aquecimento global



Fonte: IPCC PIVETTA, M. O clima no Antropoceno. Revista Pesquisa Fapesp, n. 307, set. 2021.

Qual medida é capaz de minimizar as mudanças apresentadas nas simulações?

- A) Expandir o transporte marítimo.
- B) Incentivar os fluxos migratórios.
- C) Monitorar as atividades vulcânicas.
- D) Controlar as emissões de carbono.
- E) Priorizar a utilização de termoeletricas.

10-

Txai Suruí, liderança da Juventude Indígena, profere seu discurso na abertura da COP-26

“O clima está esquentando, os animais estão desaparecendo, os rios estão morrendo e nossas plantações não florescem como no passado. A Terra está falando: ela nos diz que não temos mais tempo.”

VICK, M. Quais são as conquistas do movimento indígena na COP-26. Disponível em: www.nexojornal.com.br. Acesso em: 10 nov. 2021 (adaptado).

O discurso da líder indígena explicita um problema global relacionado ao(à)

- A) manejo tradicional.
- B) reciclagem residual.
- C) consumo consciente.
- D) exploração predatória.
- E) reaproveitamento energético.

11- Três inseticidas mortais para as abelhas serão proibidos na União Europeia (UE) durante dois anos, a partir de julho, anunciou a Comissão Europeia em 2013. A medida foi adotada por causa da morte de milhares de abelhas, insetos vitais para o nosso ecossistema, uma vez que desempenham um importante papel na agricultura e, portanto, na produção de alimentos para a humanidade.

Disponível em: <http://noticias.r7.com>. Acesso em: 24 maio 2013 (adaptado).

O impacto dos inseticidas mencionados na produção de alimentos agrícolas é causado pelo(a)

- A) redução da produção de mel.
- B) decréscimo da taxa de polinização.
- C) contaminação do solo com abelhas mortas.
- D) aumento de resíduos tóxicos nos alimentos.
- E) alteração da cadeia alimentar no ecossistema.

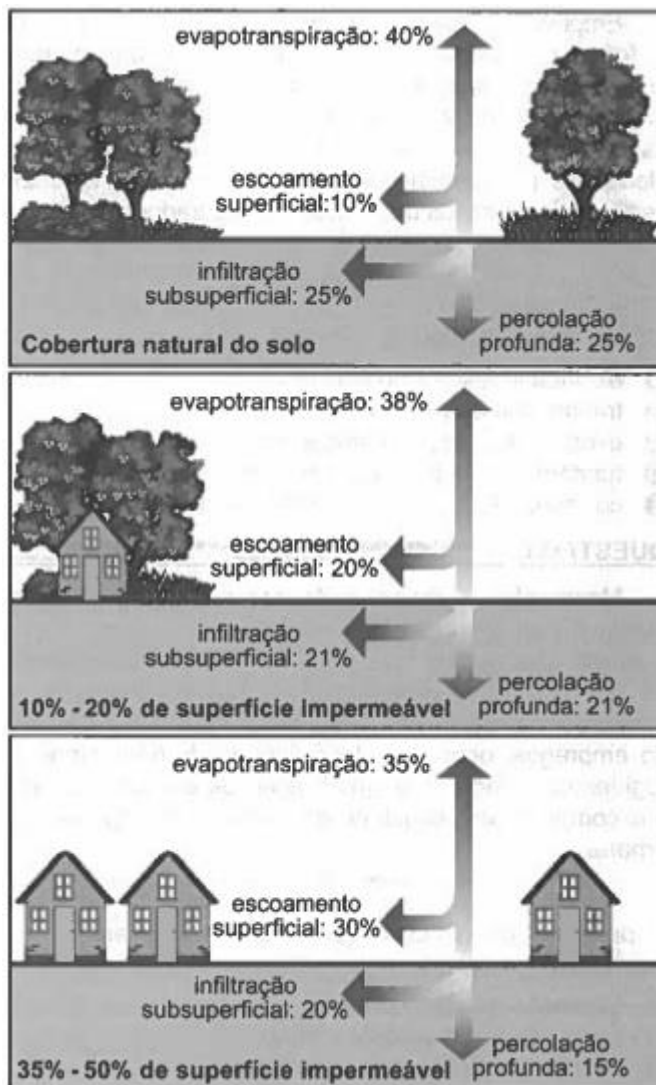
12- O desgaste acelerado sempre existirá se o agricultor não tiver o devido cuidado de combater as causas, relacionadas a vários processos, tais como: empobrecimento químico e lixiviação provocados pelo esgotamento causado pelas colheitas e pela lavagem vertical de nutrientes da água que se infiltra no solo, bem como pela retirada de elementos nutritivos com as colheitas. Os nutrientes retirados, quando não repostos, são comumente substituídos por elementos tóxicos, como, por exemplo, o alumínio.

LEPSCH, I. Formação e conservação dos solos. São Paulo: Oficina de Textos, 2002 (adaptado).

A dinâmica ambiental exemplificada no texto gera a seguinte consequência para o solo agricultável:

- A) Elevação da acidez.
- B) Ampliação da salinidade.
- C) Formação de voçorocas.
- D) Remoção da camada superior.
- E) Intensificação do escoamento superficial

13-



PAZ, A. D. Disponível em: www.ct.ufpb.br. Acesso em: 15 out. 2021. (adaptado.)

A intensificação da ocupação urbana demonstrada afeta de forma imediata o(a)

- A) nível altimétrico.
- B) ciclo hidrológico.
- C) padrão climático.
- D) tectônica das placas.
- E) estrutura das rochas.

- 14- O desgaste acelerado sempre existirá se o agricultor não tiver o devido cuidado de combater as causas, relacionadas a vários processos, tais como: empobrecimento químico e lixiviação provocados pelo esgotamento causado pelas colheitas e pela lavagem vertical de nutrientes da água que se infiltra no solo, bem como pela retirada de elementos nutritivos com as colheitas. Os nutrientes retirados, quando não repostos, são comumente substituídos por elementos tóxicos, como, por exemplo, o alumínio.

LEPSCH, I. Formação e conservação dos solos. São Paulo: Oficina de Textos, 2002 (adaptado).

A dinâmica ambiental exemplificada no texto gera a seguinte consequência para o solo agricultável:

- A) Elevação da acidez.
 - B) Ampliação da salinidade.
 - C) Formação de voçorocas.
 - D) Remoção da camada superior.
 - E) Intensificação do escoamento superficial
- 15- Antes de o sol começar a esquentar as terras da faixa ao sul do Saara conhecida como Sahel, duas dezenas de mulheres da aldeia de Widou, no norte do Senegal, regam a horta cujas frutas e verduras alimentam a população local. É um pequeno terreno que, visto do céu, forma uma mancha verde — um dos primeiros pedaços da “Grande Muralha Verde”, barreira vegetal que se estenderá por 7 000 km do Senegal ao Djibuti, e é parte de um plano conjunto de vinte países africanos.

GIORGI, J. Muralha verde. Folha de S. Paulo, 20 maio 2013 (adaptado).

O projeto ambiental descrito proporciona a seguinte consequência regional imediata:

- A) Facilita as trocas comerciais.
 - B) Soluciona os conflitos fundiários.
 - C) Restringe a diversidade biológica.
 - D) Fomenta a atividade de pastoreio.
 - E) Evita a expansão da desertificação
- 16- O Protocolo de Montreal é um tratado internacional que diz respeito à defesa do meio ambiente. Uma de suas recomendações é a redução da utilização de substâncias propelentes, como os CFCs (Cloro-Flúor-Carbono), em aerossóis e aparelhos de refrigeração.

Essa recomendação visa

- A) evitar a chuva ácida.
- B) prevenir a inversão térmica.
- C) preservar a camada de ozônio.
- D) controlar o aquecimento global.
- E) impedir a formação de ilhas de calor.

Frente 2:

17- A Turquia, um dos países candidatos a integrar a União Europeia, tem dividido opiniões quanto ao seu ingresso no bloco. Dentre as polêmicas que dificultam sua entrada, destacam-se:

- I. A posição estratégica que o país ocupa enquanto nação cristã no combate ao terrorismo e ao fundamentalismo;
- II. O tratamento diferenciado que o país ainda faz para com homens e mulheres;
- III. A prática de violação dos direitos humanos ainda presente no país, sobretudo contra os curdos;
- IV. A instabilidade econômica que o país ainda não conseguiu solucionar.

Estão corretas as assertivas:

- A) I e IV, apenas
- B) I, III e IV
- C) I, II e III
- D) II, III e IV
- E) II e III, apenas

18- Os Blocos Econômicos correspondem à união de países de uma mesma região para fomentar o crescimento econômico e social. Assim, vários países se associam, a fim de formar um mercado regional comum por meio de facilidades tarifárias entre os membros.

Disponível em: <https://www.todamateria.com.br/>. Acesso em: 23 set. 2022 (adaptado).

Recentemente, a maior dessas associações sofreu a saída de um país-membro, a saber, respectivamente:

- A) BRICS e Rússia.
- B) União Europeia e Ucrânia.
- C) Mercosul e Venezuela.
- D) União Europeia e Inglaterra.
- E) BRICS e Índia.

19- Brasil e Argentina chegaram a um acordo para a redução em 10% da Tarifa Externa Comum (TEC) do Mercosul. O consenso foi alcançado durante a negociação entre o ministro das Relações Exteriores do Brasil e o seu equivalente argentino, no Palácio do Itamaraty, em Brasília, no início do mês de outubro de 2021. A redução da TEC é um antigo desejo do Brasil, que pretende abrir mais sua economia e, com isso, ajudar a controlar a inflação. Já a Argentina temia que a medida pudesse afetar sua produção industrial. O acordo vai abranger uma ampla gama de produtos e ainda será apresentado ao Paraguai e Uruguai, para que seja formalizado. Brasil e Argentina fecham acordo para corte de 10% na tarifa do Mercosul.

Disponível em: <https://oglobo.globo.com>. Acesso em: 8 out. 2021 (adaptado).

A necessidade de negociação diplomática para viabilizar o acordo tarifário mencionado é explicada pela seguinte característica do Mercosul:

- A) Limitação da circulação financeira.
- B) Padronização da política monetária.
- C) Funcionamento da união aduaneira.
- D) Dependência da exportação agrícola.
- E) Equivalência da legislação trabalhista.

20- Blocos econômicos são grupos de nações que compartilham algumas medidas no intuito de desenvolver sistemas comerciais, políticos e sociais. As organizações intergovernamentais estabelecem planos que almejam o aumento na circulação de mercadorias, pessoas e capital.

Internet: educamaisbrasil.com.br (com adaptações).

No que diz respeito aos blocos econômicos do mundo atual, assinale a opção correta.

- A) A União Europeia é o único bloco econômico que alcançou o estágio de adoção de uma moeda única, mas, apesar de ser um dos mais fortes blocos econômicos da atualidade, ainda enfrenta problemas, como o caso do Brexit.
- B) O fato de a Ucrânia ter sido um dos últimos países a entrar na União Europeia contribuiu para que houvesse um aumento de sanções em relação à Rússia, após a Invasão do território ucraniano.
- C) A recém-entrada dos países desenvolvidos Finlândia e Noruega no bloco econômico da Organização do Tratado Atlântico Norte aumenta o poder da ciência e da tecnologia nas potências econômicas ocidentais.
- D) Durante o seu governo, ex-presidente norte-americano Donald Trump desfez o NAFTA, não tendo sido, ainda hoje, assinado nenhum outro acordo comercial, o que prejudica o México, país menos desenvolvido da América do Norte.
- E) A Cooperação Econômica da Ásia e do Pacífico foi assinada como um bloco econômico, mas sua premissa principal foi a existência de países que possuem sistemas políticos de direcionamentos democráticos.

21- Produtores rurais europeus são antigos opositores de um grande acordo com o Mercosul. Na visão deles, existe um nítido risco de concorrência desleal, pois, na Europa, é preciso seguir regras mais rígidas de produção, o que encarece o processo. Assim, eles não conseguiriam competir com os preços, por exemplo, da carne brasileira e teriam seus negócios ameaçados. Por outro lado, o setor industrial europeu se mobiliza a favor do acordo, uma vez que as reduções de tarifas no comércio internacional dariam maior acesso ao mercado sul-americano. Um exemplo é o setor automotivo europeu, que prevê maior participação e concorrência nos países do Mercosul caso o acordo siga em frente.

ROUBICEK, M. Como o risco ambiental afeta o acordo entre Mercosul e União Europeia. Disponível em: www.nexojornal.com.br. Acesso em: 25 out. 2021.

No contexto do acordo citado, os dois grupos econômicos europeus defendem, respectivamente, a

- A) restrição dos fluxos migratórios e a maior atuação de sindicatos.
- B) ampliação das leis trabalhistas e a plena importação de manufaturados.
- C) proteção das florestas nacionais e a ampla transferência de tecnologias.
- D) manutenção das barreiras fitossanitárias e a livre circulação de mercadorias.
- E) remoção dos entraves alfandegários e a melhor remuneração de empregados.

22- "Em 1 de Janeiro de 1994, o Acordo de Livre Comércio da América do Norte (NAFTA) entrou em vigor. O NAFTA criou uma das maiores zonas de comércio livre do mundo, que agora liga 450 milhões de pessoas que produzem 17 trilhões de dólares em bens e serviços. O comércio entre os países do NAFTA vem crescendo desde que o acordo entrou em vigor."

O NAFTA tornou-se um dos mais importantes blocos econômicos do mundo, apesar de fazer parte dele apenas

- A) EUA, Canadá, Venezuela e Brasil.
- B) EUA, Canadá e Inglaterra.
- C) EUA, Canadá, Brasil e Argentina.
- D) EUA, Canadá e México.
- E) EUA, Canadá, México e Brasil.

23- O bloco econômico NAFTA foi formado a partir de um acordo assinado entre Canadá, Estados Unidos e México, no dia 17 de dezembro de 1992, e entrou em vigor no dia primeiro de janeiro de 1994. Sobre o NAFTA, é correto afirmar que

- A) adotou modelo de desenvolvimento industrial pautado na geração de energia limpa.
- B) formou uma área de livre comércio por meio da eliminação das tarifas alfandegárias.
- C) priorizou economias fundamentadas na exportação de commodities.
- D) suprimiu as barreiras comerciais a partir da unificação das moedas
- E) flexibilizou as regras para a transferência de mão de obra não qualificada.

24- USMCA, o novo Nafta, estará sujeito a renegociação a cada 6 anos O novo tratado receberá o nome Acordo Estados Unidos-México-Canadá (USMCA, na sigla em inglês), de acordo com uma declaração conjunta. A nova versão do Nafta, em vigor desde 1994 entre Estados Unidos, Canadá e México, começou a ser renegociada em 2017 por exigência do presidente americano, Donald Trump, que considerava o acordo um "desastre" para seu país.

Disponível: <https://exame.abril.com.br/economia/usmca-o-novonafta-estara-sujeito-a-renegociacao-a-cada-6-anos/>. Acesso: 30 out. 2018.

- I. O USMCA, novo Nafta, torna mais acessível o mercado de laticínios canadense pelos produtores estadunidenses.
- II. A proposta do USMCA prevê a implantação de moeda única para o bloco nos próximos anos.

- III. Proposta de votação para inserção da Coreia do Norte como país-membro do USMCA.
- IV. O novo acordo prevê a livre circulação de pessoas e a redução nas fiscalizações nas fronteiras dos países-membros.
- V. O novo acordo visa o retorno de indústrias estadunidenses situadas no México com o objetivo de criar novos postos de trabalho nos EUA.

É correto o que se afirma em

- A) I, II e V
- B) II e III
- C) III, apenas
- D) IV e V
- E) I e V

25- Iniciada há quase dois anos, a renegociação resultou em um novo acordo comercial, o chamado United States-Mexico- -Canada Agreement (USMCA). A revisão do antigo bloco econômico, um acordo trilateral de livre-comércio que remonta aos anos 1990, era um dos principais pontos da campanha presidencial de Donald Trump, que prometia recompor postos de trabalho exportados para o México, além de buscar reverter o recorrente e significativo déficit comercial com o parceiro do sul.]

(www.opeu.org.br, 17.04.2019. Adaptado.)

O USMCA caracteriza um novo bloco econômico que substitui

- A) a ALADI, Associação Latino-Americana de Integração.
- B) a OCDE, Organização para a Cooperação e Desenvolvimento Econômico.
- C) a ALCA, Área de Livre Comércio das Américas.
- D) o MERCOSUL, Mercado Comum do Sul.
- E) o NAFTA, Tratado Norte-Americano de Livre Comércio

26- A globalização, em geral, refere-se ao fato de que, nas últimas décadas, indivíduos, grupos, entidades e estados-nações se tornaram cada vez mais interdependentes uns dos outros ao redor do mundo no que diz respeito a negociações econômicas, orientações políticas, difusão de conhecimentos técnico-científicos e artísticoculturais. Mas, mesmo com variadas facetas, mais precisamente, foram os agentes econômicos e políticos e/ou as dimensões econômicas e políticas que contribuíram de maneira decisiva para que essa interdependência global tenha se consolidado.

Acerca das dimensões e dos agentes da globalização, assinale a afirmação verdadeira.

- A) A globalização econômica, proporcionada pelo aumento das transações comerciais ao redor do planeta, está desconectada das decisões políticas dos estados nacionais.
- B) Algumas corporações transnacionais, como a Apple, a Microsoft e a Uber estabelecem cadeias produtivas globais instalando filiais em países com alto custo de mão de obra.

- C) A globalização tem sua face política fundada na chamada governança global orientada por entidades e organizações como a ONU, a OMS, a UNICEF e o Tribunal Penal Internacional.
- D) As organizações governamentais transnacionais como o Fundo Monetário Internacional – FMI –, o Banco Mundial e a ONU combatem a perda de autonomia dos Estados nacionais.

27- Nesse tipo de bloco, pretende-se apenas a gradativa liberação do fluxo de mercadoria entre os países membros, o que deve ocorrer por meio da ausência de barreiras tarifárias e não tarifárias. Um processo como esse acontece, por exemplo, nas relações econômicas entre Estados Unidos, Canadá e México.

Com base nas características de cada tipo de bloco econômico e seu nível de integração regional, assinale a alternativa que apresenta, corretamente, a modalidade descrita no enunciado.

- A) Área de Livre-Comércio.
- B) Mercado Comum.
- C) Organização Mundial do Comércio.
- D) União Aduaneira ou Alfandegária.
- E) União Econômica e Monetária.